

Nataša Bucik, Gregor Bucik, Valentin Bucik

# MISLECA


Miselne naloge za mlade bistrume



Nataša Bucik, Gregor Bucik, Valentin Bucik

# MISLECA 2

Miselne naloge za bistrume

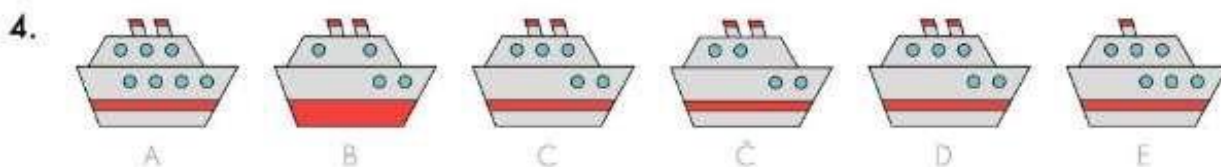
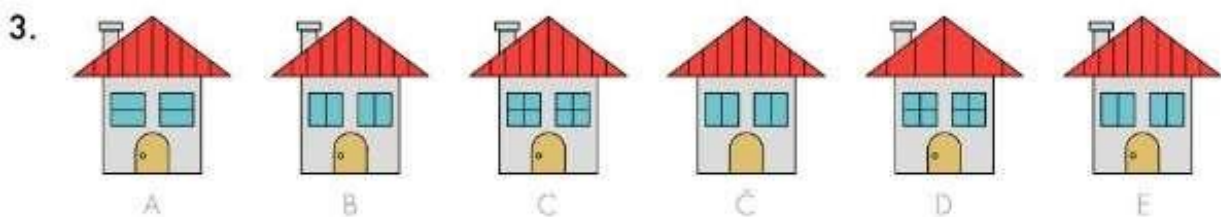
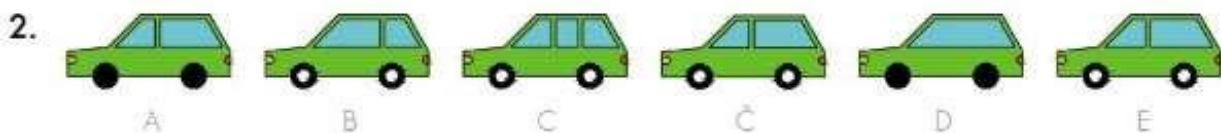
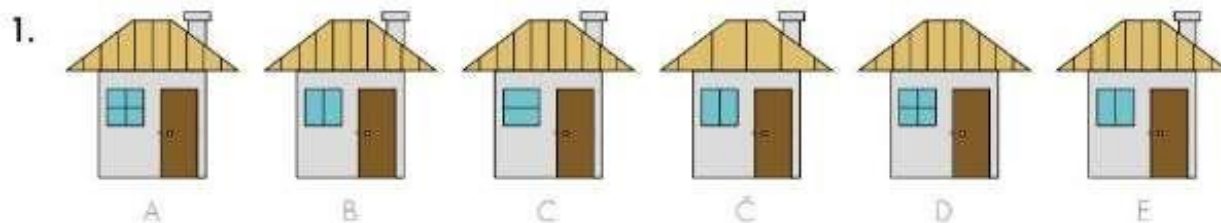
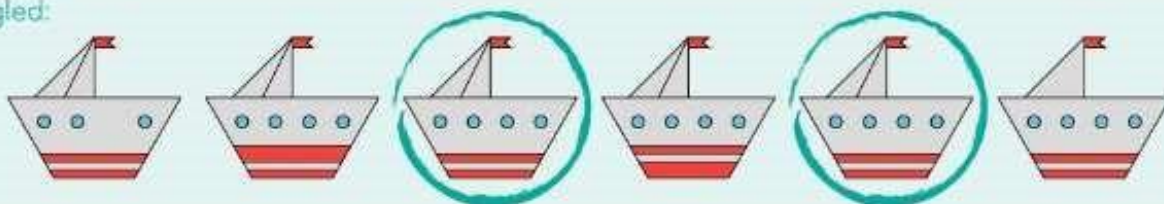


MISLECA – MISELNE NALOGE ZA BISTROUMNE











































## 1. DVE ENAKI

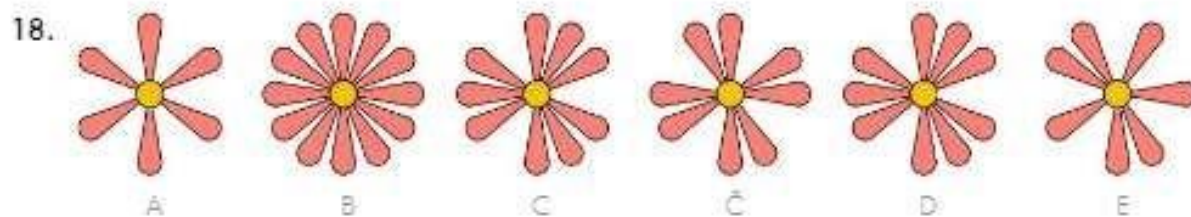
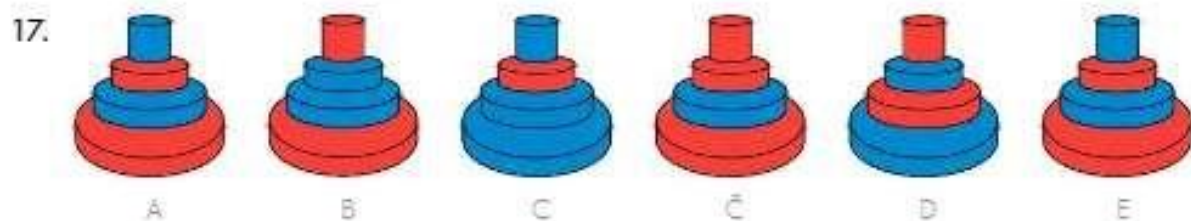
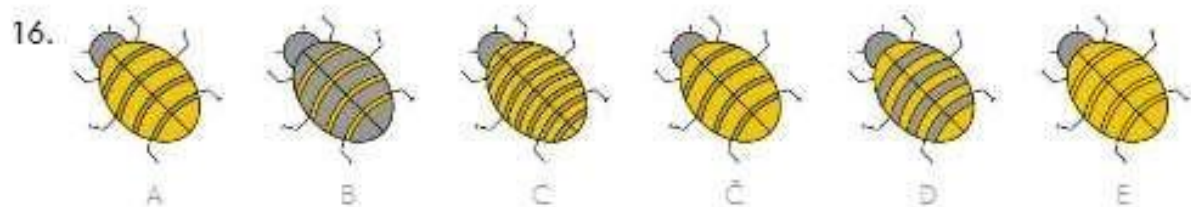
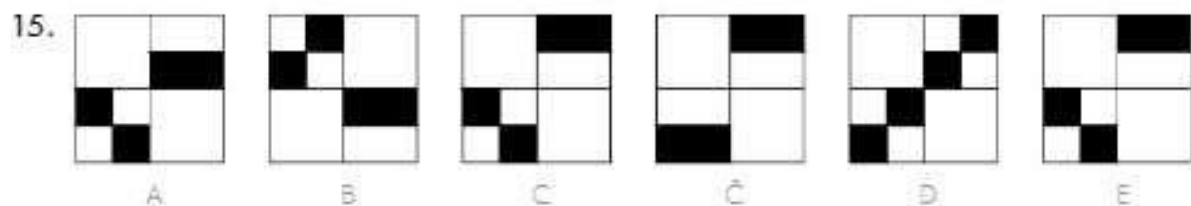
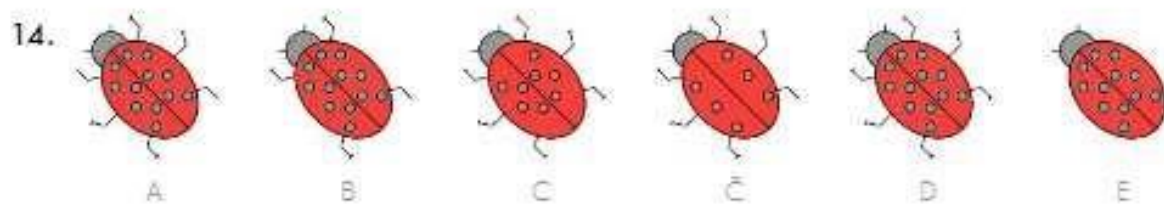
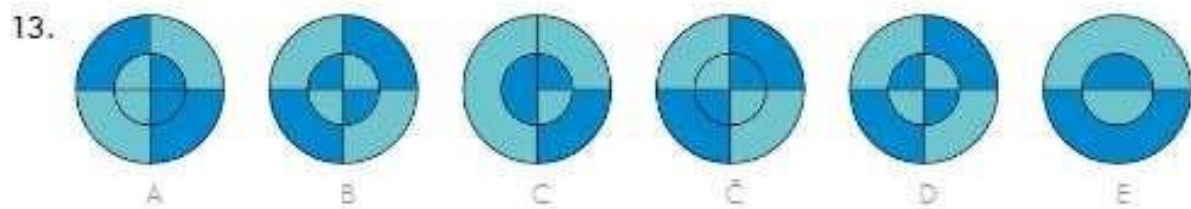
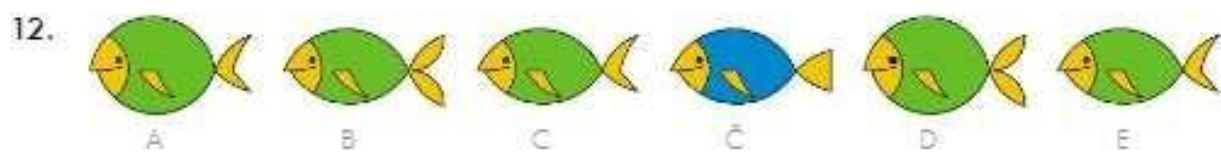
Pomagaj Zofi in Platu pri vsaki nalogi poiskati **dve popolnoma enaki** sličici in ju **obkroži**. Po zgledu reši tudi druge naloge.

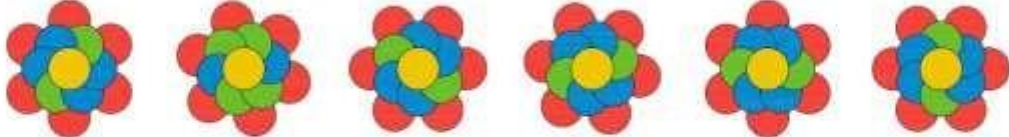
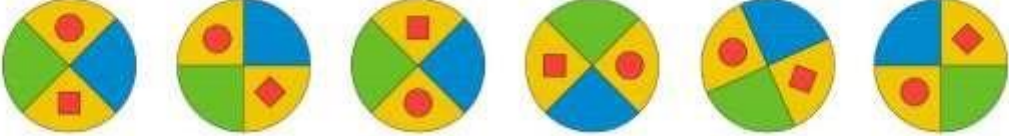



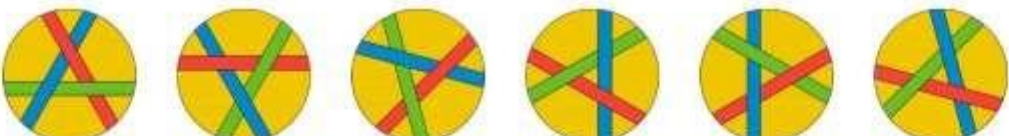
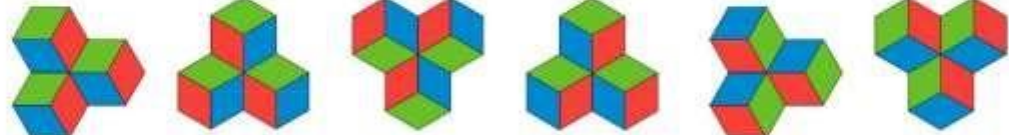
Zgled:



Pri reševanju nalog v tem poglavju urimo sposobnost natančnega opazovanja, primerjanja ter razlikovanja na podlagi podrobnosti. Med različnimi podobami bodimo pozorni na številne podrobnosti, ki nam pomagajo čim hitreje najti dve podobi, ki sta popolnoma enaki.

5.      
- A B C Č D E
6.      
- A B C Č D E
7.      
- A B C Č D E
8.      
- A B C Č D E
9.      
- A B C Č D E
10.      
- A B C Č D E
11.      
- A B C Č D E



19.   
A B C Č D E
20.   
A B C Č D E
21.   
A B C Č D E
22.   
A B C Č D E
23.   
A B C Č D E
24.   
A B C Č D E
25.   
A B C Č D E

19.



A



B



C

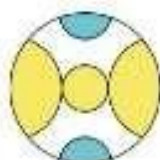


D

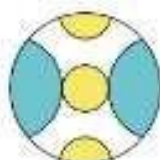


E

20.



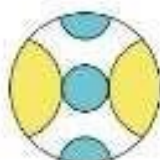
A



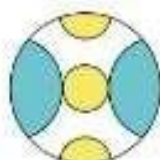
B



C



D



E

21.



A



B



C



D

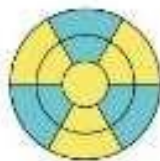


E

22.



A



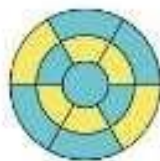
B



C

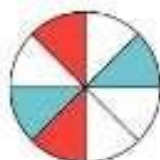


D

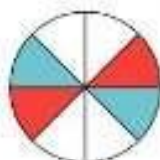


E

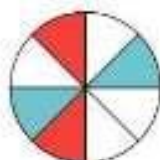
23.



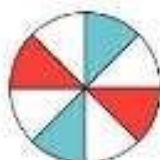
A



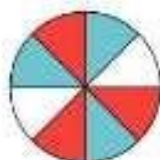
B



C



D

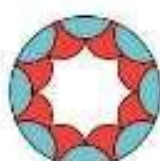


E

24.



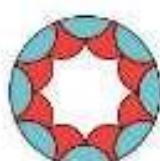
A



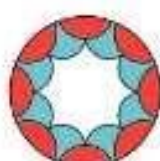
B



C



D



E

25.



A



B



C




D




E

Na teh dveh straneh se obkroženi vzorec vsakokrat pojavi **petnajstkrot**.  
Pomagaj Zofi in Platu poiskati še **štirinojst** ponovitev in jih **obkroži**.



6.









Pripravila: Nataša Bucik in Gregor Bucik • Narisal: Gregor Bucik

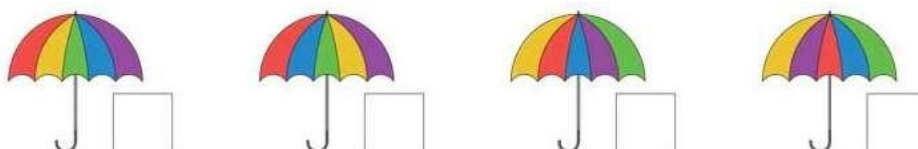
# MISLECA



Pomagaj Zofi in Platu prešteti enake dežnike. Najprej vse dežnike, ki so povsem enaki, obkroži z enako barvo:



Sedaj preštej dežnike, ki so obkroženi s posamezno barvo, in v okvirčke vpiši njihovo število. Obkroži z  tiste, ki jih je **največ**, z  pa tiste, ki jih je **najmanj**.





PLATO

Prpravila: Nataša Bucik • Narisal: Gregor Bucik

# MISLECA



ZOFI

Pomagajte Zofi in Platu pravilno zapolniti spodnje razpredelnice. V vsaki razpredelnici naj se vsak od petih likov pojavi petkrat, vendar se lahko isti lik v vsaki vrstici in v vsakem stolpcu pojavi le enkrat.

Legend:

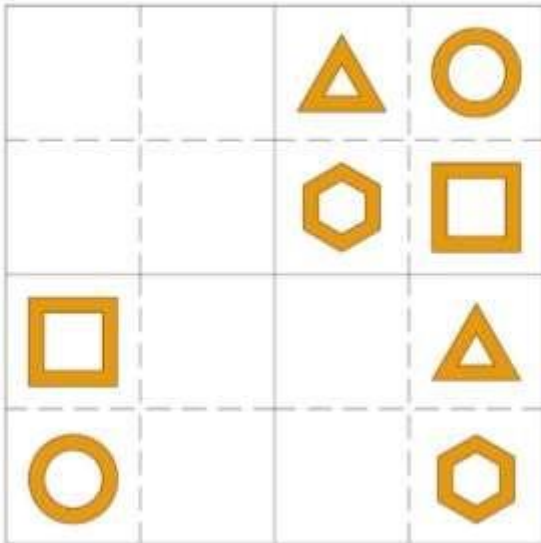

Legend:


Legend:

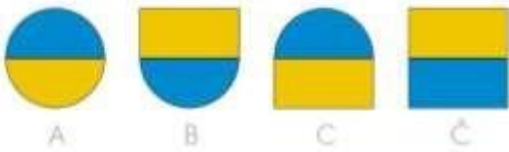
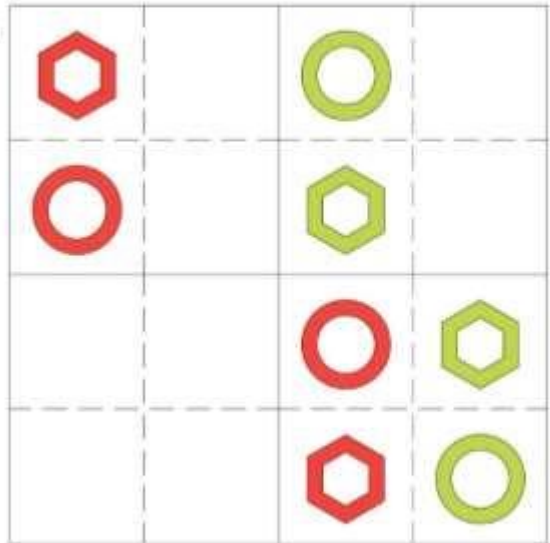

Legend:



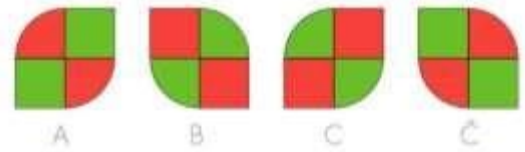
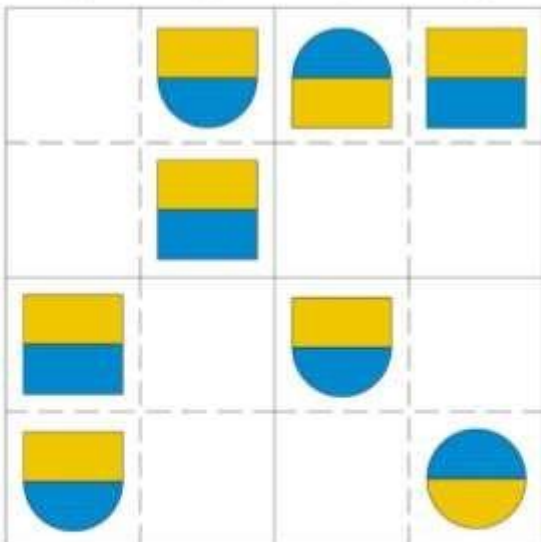

12.



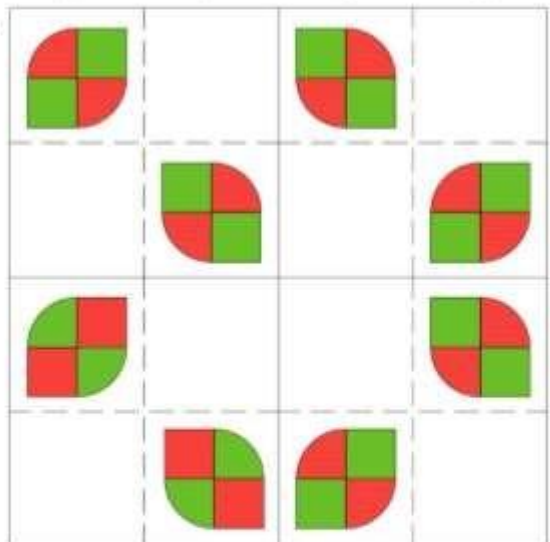
13.



14.



15.




## 2. VSILJIVCI

Zofi in Plato v vsaki vrsti iščeta sličico, ki je drugačna od drugih. Ko najdeta **vsiljivca**, ga **prečrtata**.

Po zgledu reši druge naloge:

Zgled:



- A B C Č D E
- A B C Č D E
- A B C Č D E
- A B C Č D E

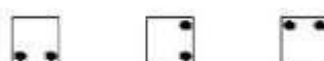


Pri reševanju nalog v tem poglavju razvijamo sposobnost natančnega opazovanja, primerjanja in razlikovanja na podlagi podrobnosti. Včasih so sličice obrnjene, zato moramo biti pozorni na vse malenkosti, ki nam pomagajo razlikovati med na videz enakimi podobami. S temi vajami urimo sposobnost hitrega iskanja podob, ki se vsaj v:















































































### 3. NIZI

Zofi in Plato morata pri vsaki nalogi najprej ugotoviti, po kakšnem pravilu se menjajo sličice v nizu. Pomagaj jima ugotoviti, katera od sličic na desni je naslednja v vrsti, in jo **obkroži**. Dobro si oglej zgled.

Zgled:



A B C


11.  ?
12.  ?
13.  ?
14.  ?
15.  ?
16.  ?
17.  ?
18.  ?
19.  ?
20.  ?
21.  ?
22.  ?
23.  ?
- A B C Č D
-     
-     
-     
-     
-     
-     
-     
-     
-     
-     
-     
-     
-     
- A B C Č D



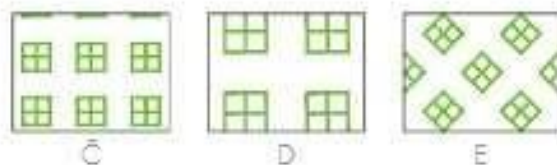
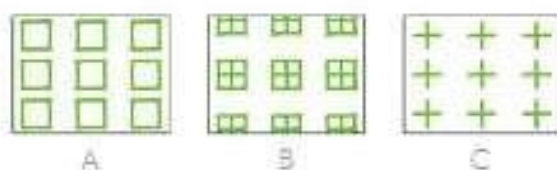
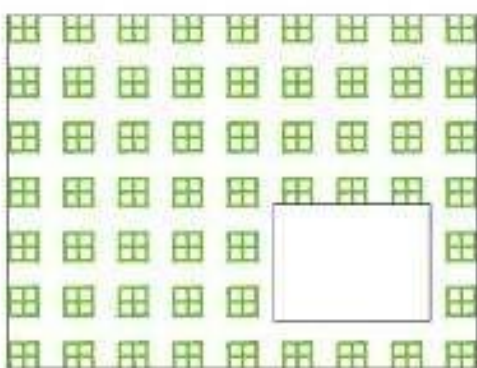
Pri reševanju nalog v tem poglavju urimo sposobnost prepoznavanja pravil ali zakonitosti, po katerih se menjajo določeni elementi v nizu. Pri tem moramo zaznati spremembe od sličice do sličice, hkrati pa te spremembe razumeti kot pravilo in tako predvideti, kateri je naslednji korak. S takimi nalogami spoznavamo, kako je mogoče na podlagi določenih podatkov predvideti, kaj sledi.

Zofi in Plato iščeta pravi manjkajoči del vzorca. Pomagaj jima in obkroži pravi del.


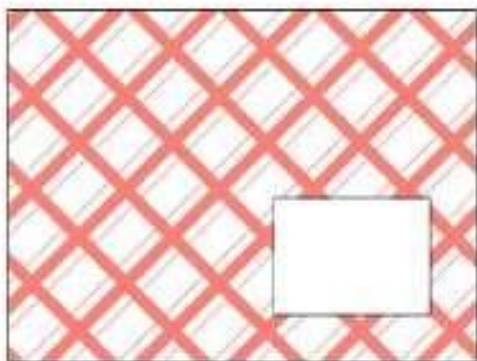
17.




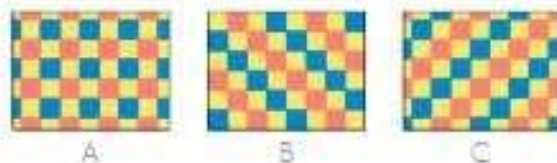

18.



19.



20.



### 13. BESEDNI OREHI

Pomagaj Zofi in Platu pri vsaki nalogi najprej ugotoviti, v kakšnem odnosu sta prvi dve besedi. Nato med besedami na desni poišči in **obkroži** tisto, ki je z **modro** besedo v enakem odnosu, kot sta prvi dve. Po zgledu reši druge naloge.

Zgled: drevo : gozd = cvetica : ?

A vinograd B travnik C list Č trava

- |                                       |                                              |
|---------------------------------------|----------------------------------------------|
| 1. steklo : steklenica = volna : ?    | A nogavica B čevelj C pletilka Č bombaž      |
| 2. voznik : avto = pilot : ?          | A vlak B letalo C čoln Č kolo                |
| 3. avtobus : postaja = ladja : ?      | A pristanišče B zaliv C jadnica Č motor      |
| 4. slika : slikar = kip : ?           | A ropar B kipar C car Č zlatar               |
| 5. jabolko : jablana = storž : ?      | A hrast B leska C bukev Č bor                |
| 6. človek : hiša = ptica : ?          | A jazbina B hlev C gnezdo Č kozolec          |
| 7. mravlja : mravljišče = krt : ?     | A krtica B krtišče C krtina Č jazbina        |
| 8. avto : cesta = vlak : ?            | A kolovoz B križišče C tunel Č tir           |
| 9. vitez : grad = medved : ?          | A staja B brlog C golobnjak Č hiša           |
| 10. riba : ribič = goba : ?           | A kmet B jurček C gobar Č borovnica          |
| 11. črno : belo = noč : ?             | A zvezde B rdeče C dan Č večer               |
| 12. sever : jug = vzhod : ?           | A zahod B središče C izhod Č globus          |
| 13. knjiga : knjigarna = zdravilo : ? | A bolnišnica B mlekarna C postelja Č lekarna |
| 14. šivanka : šivilja = kladivo : ?   | A mesar B učitelj C pek Č kovač              |
| 15. konj : kočija = lokomotiva : ?    | A vagon B traktor C motor Č avto             |



Z reševanjem teh nalog urimo sposobnost sklepanja o odnosih med stvarmi ali pojavi, pa tudi ustreznega primerjanja. Pomembno je, da najdemo pravilo, ki določa ta odnos, potem pa pri nalogah na tej strani najdemo analogijo oziroma na naslednji strani polžžema vsiljivca.



Pomagaj Zofi in Platu v vsaki razpredelnici določiti vrednost posameznega **simbola** tako, da bodo vsote v vrsti in stolpcu take, kot kažejo **modre številke**. Vsak simbol ima svojo vrednost – od **1** do **10**. Vrednosti vpisuj v prazne razpredelnice in hkrati v legendo. Pri prvi nalogi sta že ugotovila vrednosti za nekaj simbolov in jih vpisala tudi v legendo. Nadaljuj po zgledu:

1.

		11		
		11		
11	11			

		8	4	4
		6	4	2
8	6			

		13		
		9		
10	12			

		12		
		13		
13	12			

		10	5	5
		5	1	4
6	9			

		15		
		15		
15	15			

LEGENDA:

	1					2		4	5

2.

		12		
		12		
12	12			

		8		
		12		
10	10			

		14		
		11		
11	14			

		17		
		11		
14	14			

		18		
		12		
15	15			

		3		
		5		
4	4			

LEGENDA:

	10
	4

[https://issuu.com/andrejape/docs/misleca\\_odprte\\_strani](https://issuu.com/andrejape/docs/misleca_odprte_strani)

[https://issuu.com/andrejape/docs/misleca\\_prelom\\_listalnik](https://issuu.com/andrejape/docs/misleca_prelom_listalnik)

[https://www.mladinska.com/ciciban/o\\_cicibanu/ciciban-75-](https://www.mladinska.com/ciciban/o_cicibanu/ciciban-75-)

<let/4456> <https://cargocollective.com/gregorbucik/Misleca>